



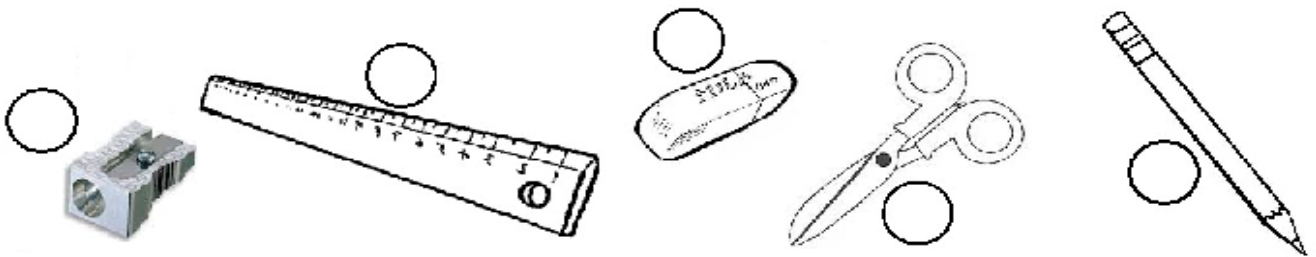
	INSTITUCIÓN EDUCATIVA HECTOR ABAD GOMEZ		
	Proceso: CURRICULAR	Código	
Nombre del Documento: Plan de mejoramiento			Versión 01
			Página 1 de 1

ASIGNATURA /AREA	Matemáticas	GRADO:	Segundo
PERÍODO	Primero	AÑO:	2022
NOMBRE DEL ESTUDIANTE			

1. Dibuja en cada casilla los elementos que faltan para completar:

		
1 decena	2 decenas	3 decenas

2. Escribiendo los números del 1 al 5, ordena los objetos del más corto al más largo:



3. Encierra el número que cumple cada requisito:

a. ¿Qué número es menor que 34?



b. ¿Qué número es mayor que 40?



c. ¿Cuál número sigue después de 59?



d. ¿Cuál número representa 4 decenas?








e. ¿Cuál número es mayor que 10 ?



4. Luisa tiene una caja que tiene botones, completa el cuadro y responde. Si saca 1 botón:



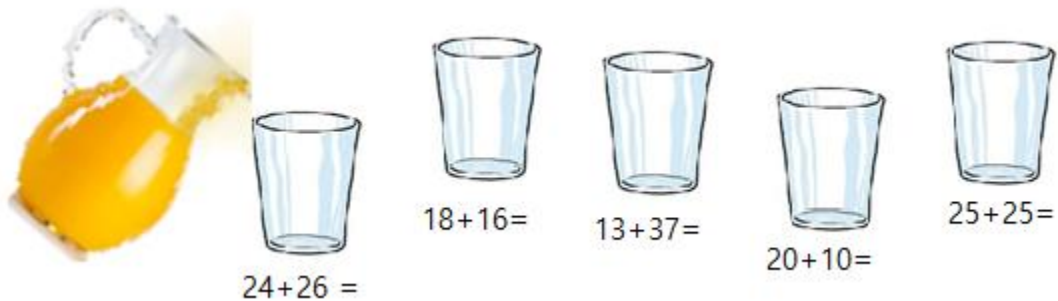
Botones	Cantidad
	
	
	
	
	
TOTALES	

a. ¿Cuántos botones diferentes hay? _____

b. ¿Cuál de ellos tendrá mayor posibilidad?

c. ¿Cuál de ellos tendrá menor posibilidad?

5. Sólo se llenarán de jugo los vasos que tengan una operación cuyo resultado sea 50. Colorea los que corresponden:



6. En la montaña había 38 osos, después de un año hay 65 osos. ¿Cuántos osos nacieron en el último año? Completa los números:

$$\begin{array}{|c|c|} \hline 3 & 8 \\ \hline & \\ \hline 6 & 5 \\ \hline \end{array} +$$

Respuesta/

7. Si Diego tiene 35 canicas y Carlos tiene 19 más que Diego. ¿Cuántas canicas tendrá Carlos?






$$\begin{array}{|c|c|} \hline & \\ \hline & \\ \hline & \\ \hline \end{array} +$$

Respuesta/

8. Escribe el número correspondiente:

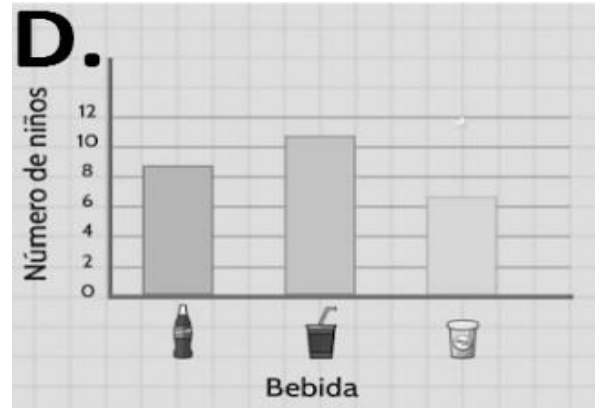
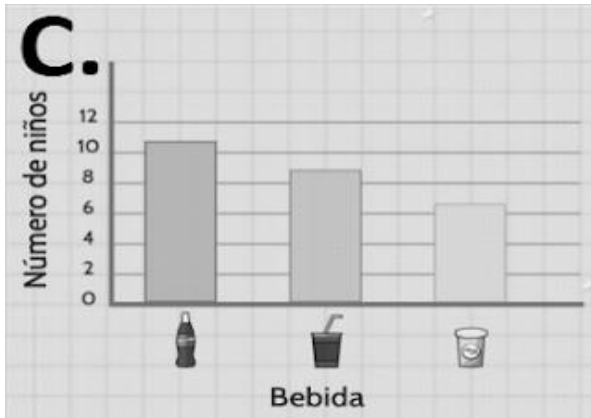
a) Seis decenas y dos unidades	
b) Dos decenas y nueve unidades	
c) Tres decenas y seis unidades	
d) Nueve decenas y tres unidades	
e) cinco decenas y cero unidades	

9. A 27 niños se les preguntó acerca de su bebida favorita, estas fueron las respuestas:

Bebida	Número de niños
	9
	7
	11

Según la tabla responde:

¿Cuál de las siguientes gráficas es la correcta?



10. Colorea la figura:

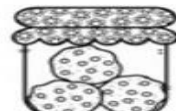
a. Que tenga más peso:



3 kilos y un cuarto



1 kilo



3 kilos y medio

b. Que tenga más lados:

